







- Przyjrzyj się ilustracji. Co jest na niej przedstawione? Policz przedmioty pokazane poniżej i wpisz liczby we właściwe kratki. Wykonaj obliczenia i wpisz wyniki.
- ★ Ułóż inne zadanie do sytuacji, którą przedstawiono na ilustracji.



	<table border="1" data-bbox="414 1456 526 1657"><tr><td> </td></tr><tr><td> </td></tr><tr><td> </td></tr></table>				i		<table border="1" data-bbox="734 1456 845 1657"><tr><td> </td></tr><tr><td> </td></tr><tr><td> </td></tr></table>				<table border="1" data-bbox="957 1456 1069 1657"><tr><td> </td></tr><tr><td> </td></tr><tr><td> </td></tr></table>				+	<table border="1" data-bbox="1133 1456 1244 1657"><tr><td> </td></tr><tr><td> </td></tr><tr><td> </td></tr></table>				=	<table border="1" data-bbox="1324 1456 1436 1657"><tr><td> </td></tr><tr><td> </td></tr><tr><td> </td></tr></table>			
	<table border="1" data-bbox="414 1680 526 1881"><tr><td> </td></tr><tr><td> </td></tr><tr><td> </td></tr></table>				i		<table border="1" data-bbox="734 1680 845 1881"><tr><td> </td></tr><tr><td> </td></tr><tr><td> </td></tr></table>				<table border="1" data-bbox="957 1680 1069 1881"><tr><td> </td></tr><tr><td> </td></tr><tr><td> </td></tr></table>				+	<table border="1" data-bbox="1133 1680 1244 1881"><tr><td> </td></tr><tr><td> </td></tr><tr><td> </td></tr></table>				=	<table border="1" data-bbox="1324 1680 1436 1881"><tr><td> </td></tr><tr><td> </td></tr><tr><td> </td></tr></table>			
	<table border="1" data-bbox="414 1904 526 2105"><tr><td> </td></tr><tr><td> </td></tr><tr><td> </td></tr></table>				i		<table border="1" data-bbox="734 1904 845 2105"><tr><td> </td></tr><tr><td> </td></tr><tr><td> </td></tr></table>				<table border="1" data-bbox="957 1904 1069 2105"><tr><td> </td></tr><tr><td> </td></tr><tr><td> </td></tr></table>				+	<table border="1" data-bbox="1133 1904 1244 2105"><tr><td> </td></tr><tr><td> </td></tr><tr><td> </td></tr></table>				=	<table border="1" data-bbox="1324 1904 1436 2105"><tr><td> </td></tr><tr><td> </td></tr><tr><td> </td></tr></table>			